

CHỦ ĐỀ
14

ÔN TẬP CUỐI
NĂM



BÀI 71





ÔN TẬP PHÉP NHÂN, PHÉP
CHIA



LUYỆ
N TẬP



1 Tìm phép nhân thích hợp.



$$4 \times 5 = 20$$

$$6 \times 4 = 24$$

$$10 \times 2 = 20$$

$$3 \times 6 = 18$$

② Viết tích thành tổng rồi tính (theo mẫu).

a) 3×4

Mẫu: $3 \times 4 = 3 + 3 + 3 + 3 = 12$

$3 \times 4 = 12$

b) 9×2

b) $9 \times 2 = 9 + 9 = 18$

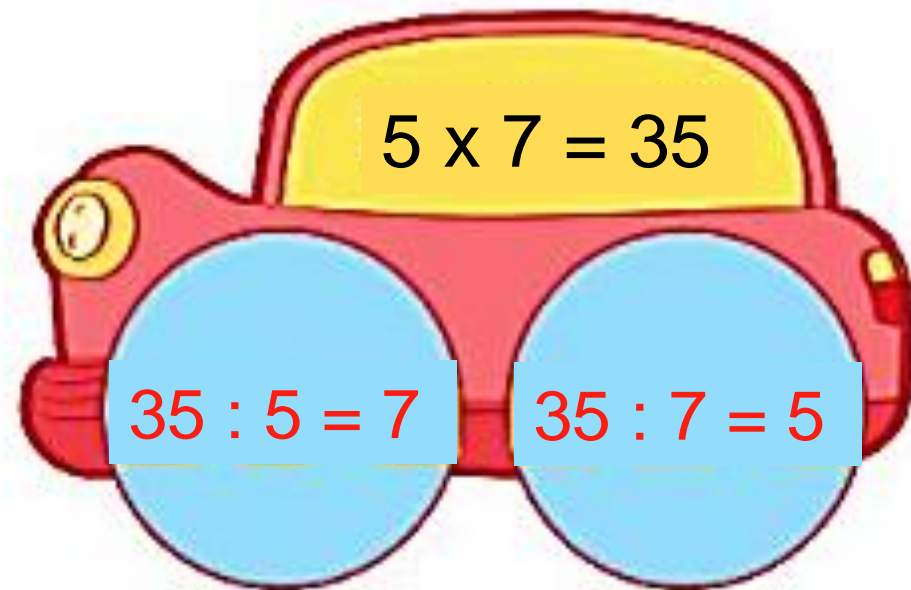
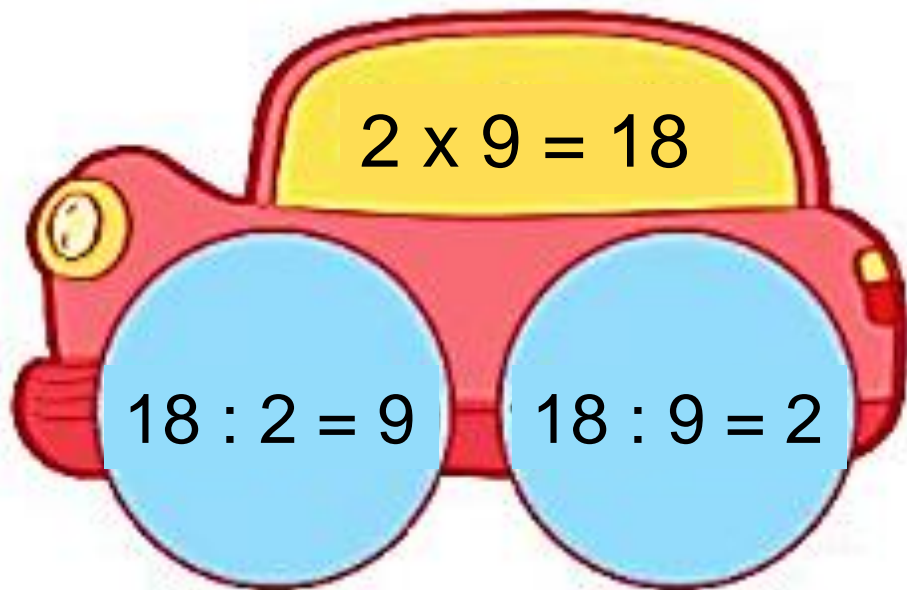
$9 \times 2 = 18$

c) 6×5

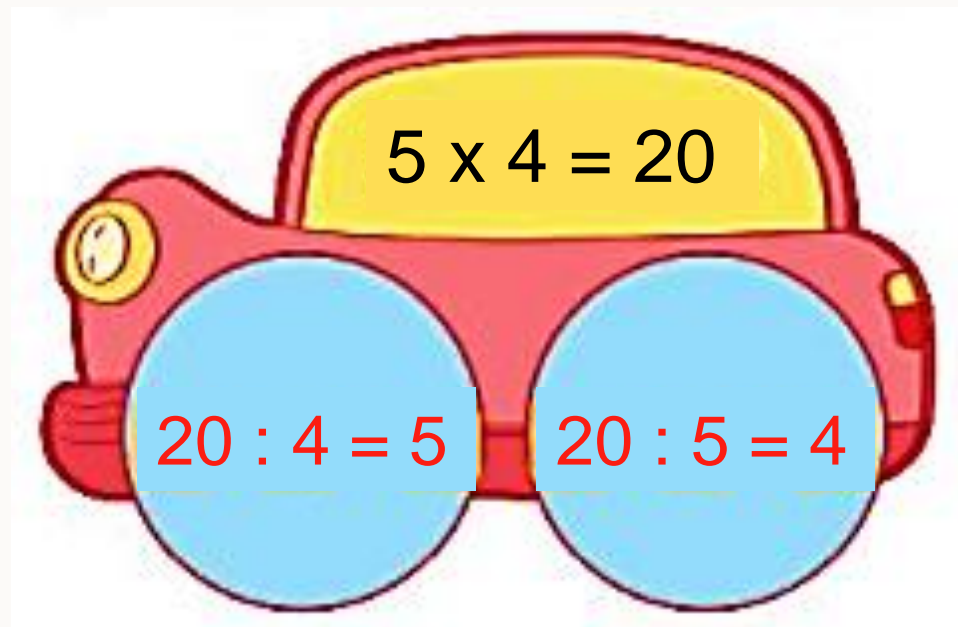
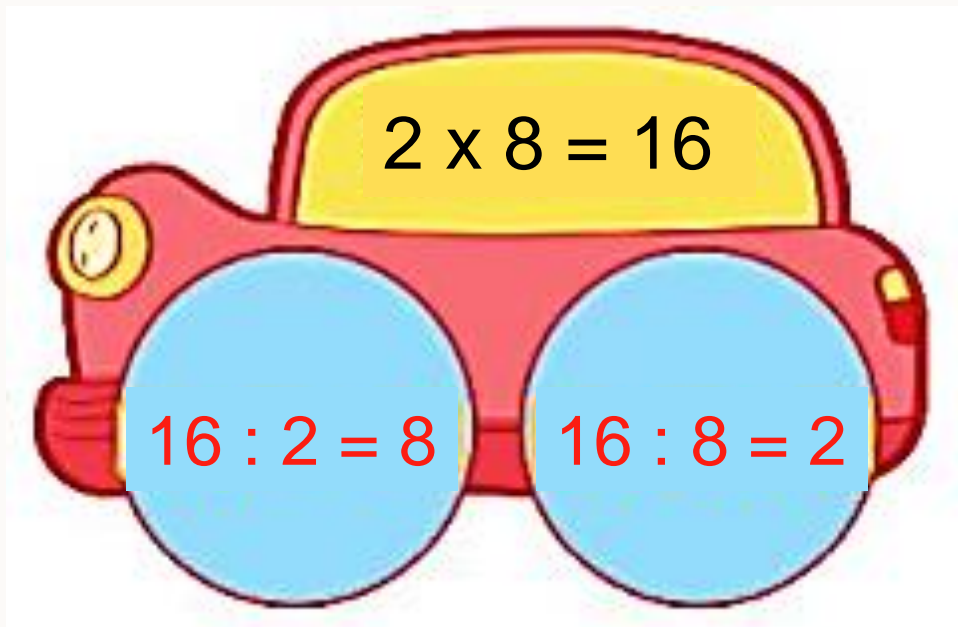
c) $6 \times 5 = 6 + 6 + 6 + 6 + 6$

$6 \times 5 = 30$

3 SỐ ?



3 SỐ ?



4 Mỗi chùm có 5 quả dừa. Hỏi 4 chùm dừa như vậy có bao nhiêu quả?

Bài giải

4 chùm dừa như vậy có số quả là:

$$5 \times 4 = 20 \text{ (quả)}$$

Đáp số: 20 quả dừa



5

Liên hoan Tết Trung thu, cô giáo mua về cho lớp 15 hộp bánh.
Cô chia đều bánh cho 5 tổ. Hỏi mỗi tổ được mấy hộp bánh?



Bài giải

Mỗi tổ được số hộp bánh là:

$$15 : 5 = 3 \text{ (hộp)}$$

Đáp số: 3 hộp bánh

LUYỆ
N TẬP



1 Số ?

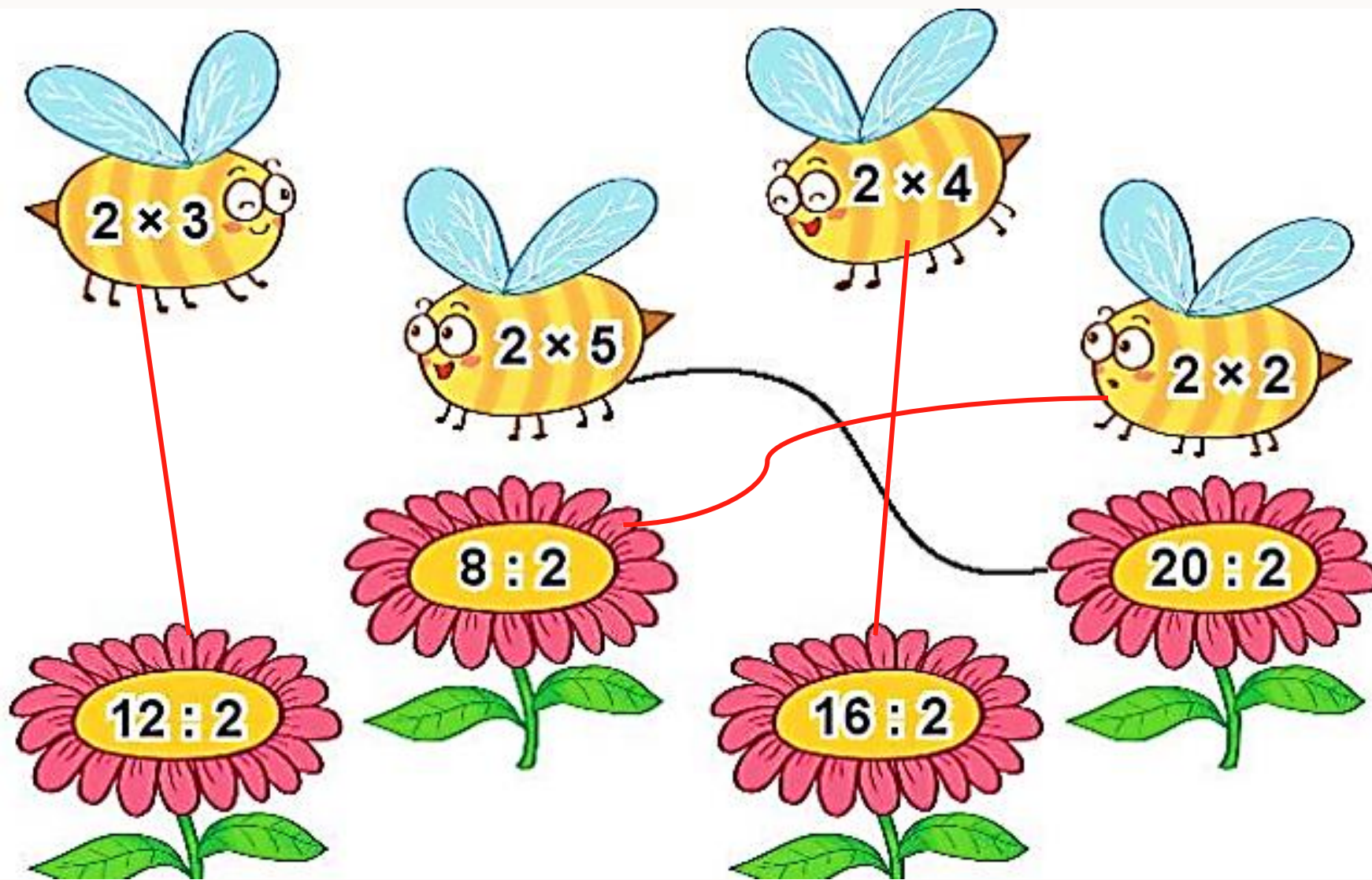
a)

x	2	2	2	5	5	5
	3	7	9	2	4	8
	6	14	18	10	20	40

b)

:	6	10	16	20	35	40
	2	2	2	5	5	5
	3	5	8	4	7	8

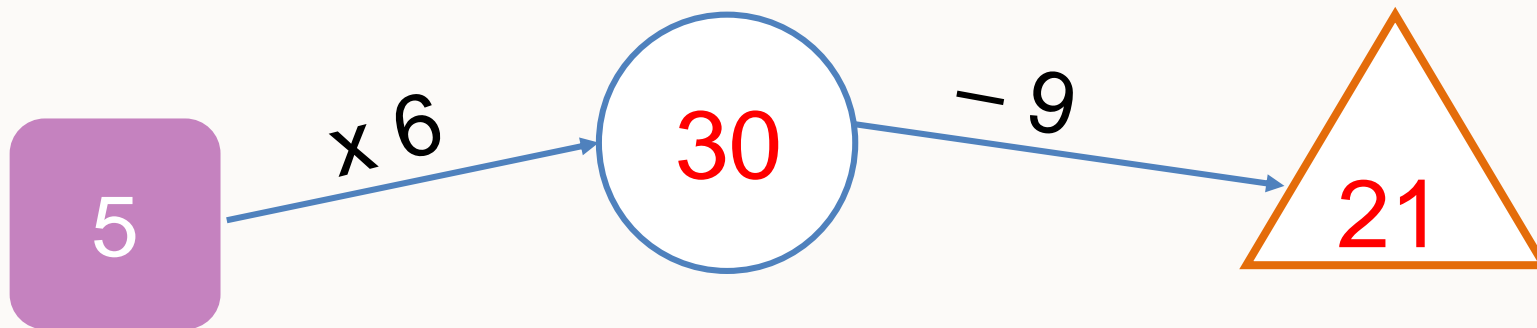
2 Mỗi con ong sẽ đậu vào bông hoa nào?



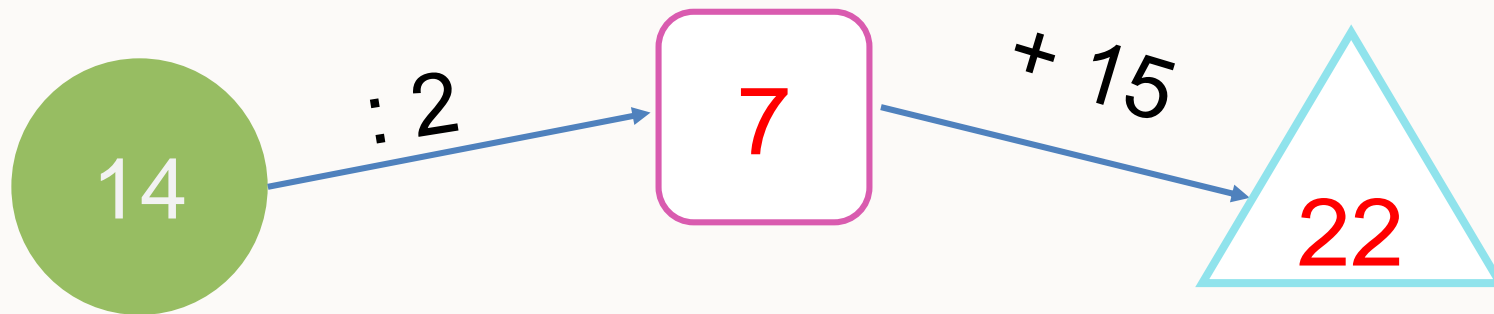
3

Số ?

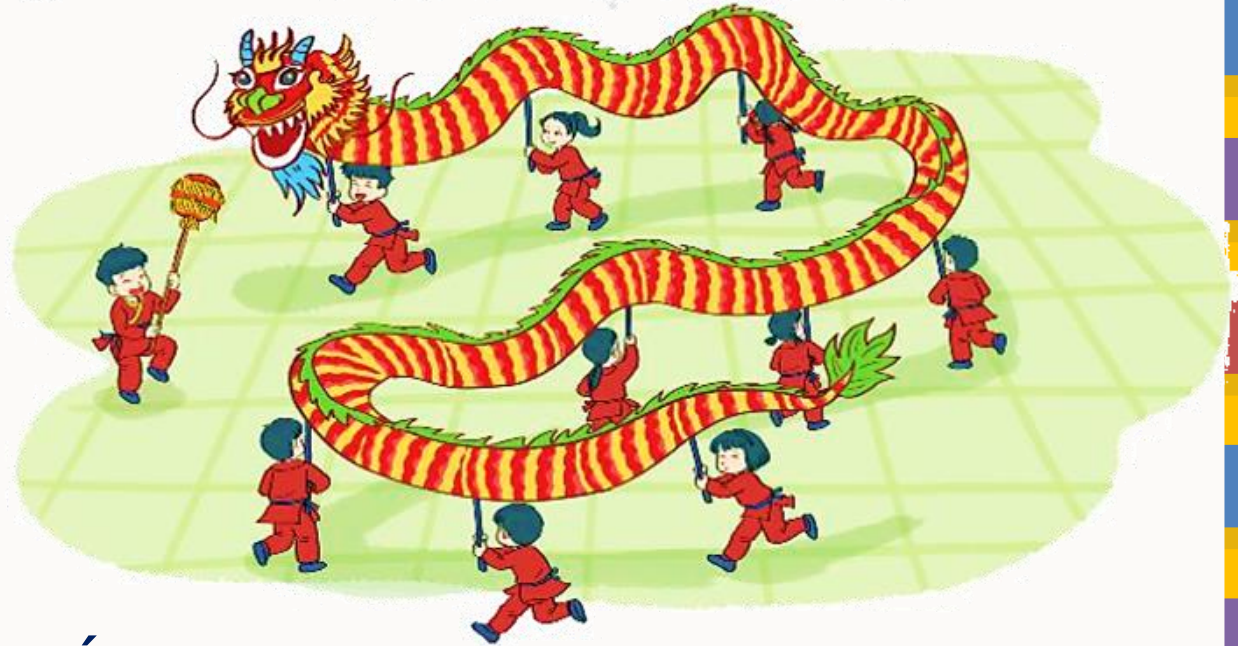
a)



b)



4 Mỗi đợt thi múa rồng có 2 đội tham gia. Hỏi 4 đợt thi múa rồng như vậy có bao nhiêu đội tham gia?



Bài giải

4 đợt thi múa rồng như vậy có số đội tham gia là:

$$2 \times 4 = 8 \text{ (đội)}$$

Đáp số: 8 đội

LUYỆ
N TẬP



1

Số ?

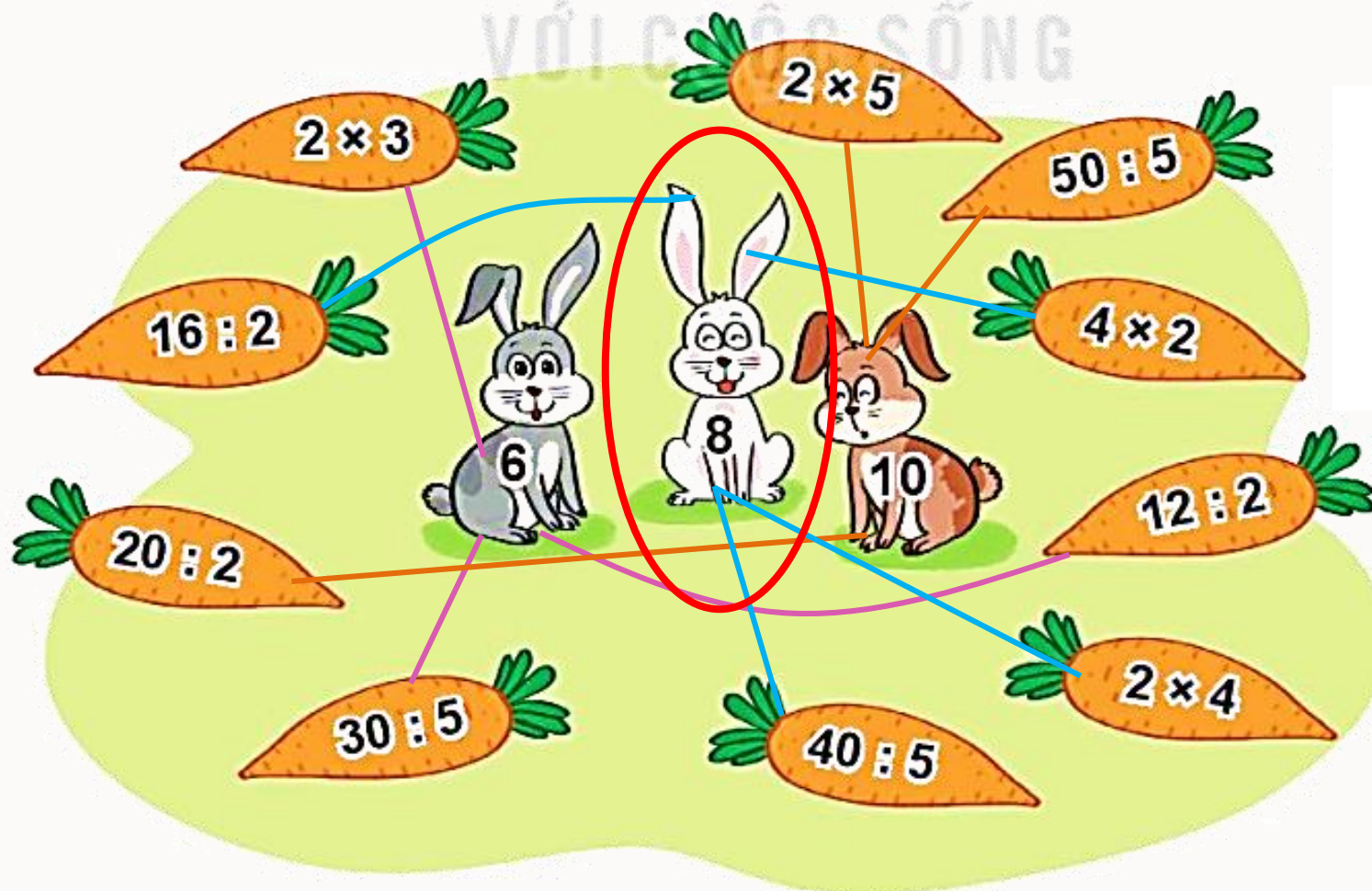
a)

Thừa số	5	5	5	5	2	2	2
Thừa số	3	2	4	7	5	8	9
Tích	15	10	20	35	10	16	18

b)

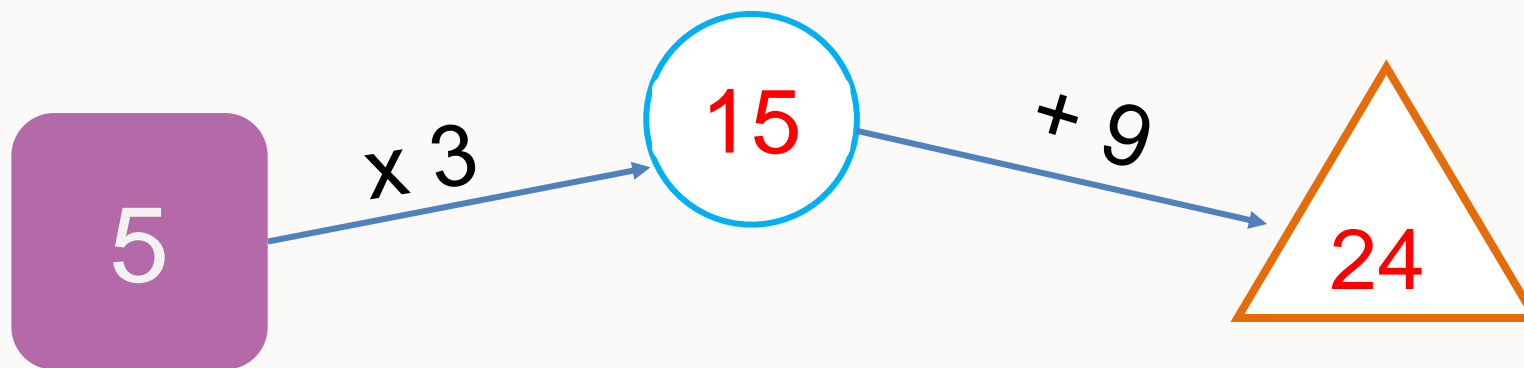
Số bị chia	15	18	20	35	16	20	40
Số chia	5	2	5	5	2	2	5
Thương	3	6	4	7	8	10	8

- 2 Mỗi con thỏ được lấy các củ cà rốt ghi phép tính có kết quả là số ghi trên con thỏ đó. Hỏi con thỏ nào lấy được nhiều củ cà rốt nhất?

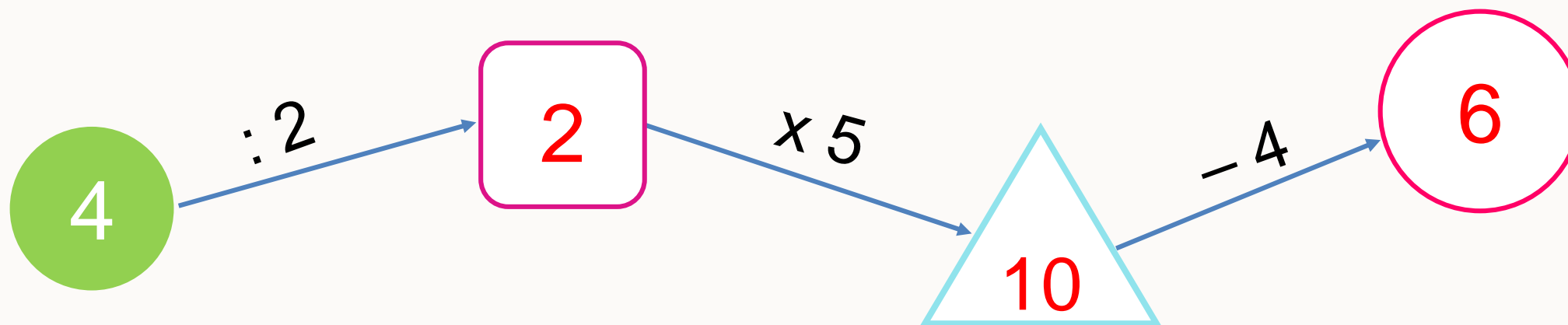


3 SỐ ?


a)



b)



- 4 Trong ngày hội đua thuyền, mỗi đội đua có 5 thuyền tham gia.
Hỏi 3 đợt đua như vậy có tất cả bao nhiêu thuyền tham gia?



Bài giải


3 đợt đua như vậy có tất cả số thuyền tham gia là:

$$5 \times 3 = 15 \text{ (thuyền)}$$

Đáp số: 15 thuyền

5 Rô – bắt đếm trong chuồng cả gà và thỏ có 8 cái chân.

Hỏi trong chuồng có mấy con thỏ?



→ Gà có 2 chân.



→ Thỏ có 4 chân.

Trong chuồng cả gà và thỏ
có 8 cái chân.

→ Trong chuồng có 2 con gà
và 1 con thỏ.